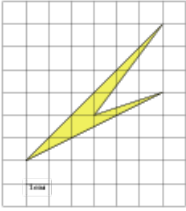


Задания**Задание 3 № 260645**

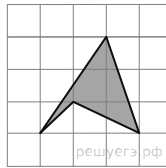
Найдите площадь четырехугольника, изображенного на клетчатой бумаге с размером клетки 1 см × 1 см (см. рис.). Ответ дайте в квадратных сантиметрах.



Решение.

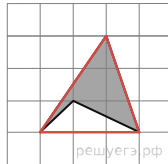
Это задание ещё не решено, приводим решение прототипа.

Найдите площадь четырехугольника, изображенного на клетчатой бумаге с размером клетки 1 см × 1 см (см. рис.). Ответ дайте в квадратных сантиметрах.



Площадь четырёхугольника равна разности площади большого треугольника и маленького треугольника. Поэтому

$$S = \frac{1}{2} \cdot 3 \cdot 3 - \frac{1}{2} \cdot 1 \cdot 3 = 3 \text{ см}^2.$$



[Прототип задания](#)