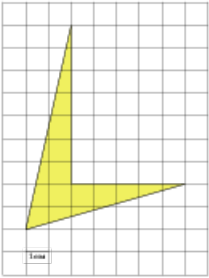


Задания**Задание 3 № 258019**

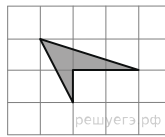
Найдите площадь четырехугольника, изображенного на клетчатой бумаге с размером клетки 1 см × 1 см (см. рис.). Ответ дайте в квадратных сантиметрах.



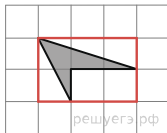
Решение.

Это задание ещё не решено, приводим решение прототипа.

Найдите площадь четырехугольника, изображенного на клетчатой бумаге с размером клетки 1 см × 1 см (см. рис.). Ответ дайте в квадратных сантиметрах.



Площадь четырёхугольника равна разности площади большого прямоугольника, маленького прямоугольника и двух прямоугольных треугольников, гипотенузы которых являются сторонами исходного четырёхугольника. Поэтому



$$S = 2 \cdot 3 - \frac{1}{2} \cdot 3 \cdot 1 - \frac{1}{2} \cdot 1 \cdot 2 - 1 \cdot 2 = 1,5 \text{ см}^2.$$

[Прототип задания](#)