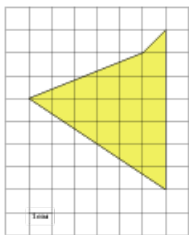


Задания

Задание 3 № 261973

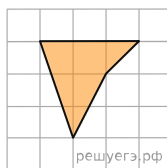
Найдите площадь четырёхугольника, изображенного на клетчатой бумаге с размером клетки 1 см × 1 см (см. рис.). Ответ дайте в квадратных сантиметрах.



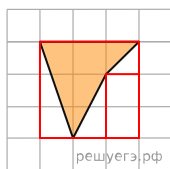
Решение.

Это задание ещё не решено, приводим решение прототипа.

Найдите площадь четырёхугольника, изображенного на клетчатой бумаге с размером клетки 1 см × 1 см (см. рис.). Ответ дайте в квадратных сантиметрах.



Площадь четырёхугольника равна площади квадрата, уменьшенной на площади маленького прямоугольника и трёх прямоугольных треугольников, гипотенузы которых являются сторонами исходного четырёхугольника. Поэтому



$$S = 3 \cdot 3 - \frac{1}{2} \cdot 1 \cdot 3 - \frac{1}{2} \cdot 1 \cdot 2 - \frac{1}{2} \cdot 1 \cdot 1 - 1 \cdot 2 = 4 \text{ см}^2.$$

Примечание.

Данный четырёхугольник можно разбить на прямоугольный треугольник, с катетами 1 и 3, прямоугольную трапецию с основаниями 3 и 1 и прямоугольный треугольник с катетами 1 и 1. Поэтому его площадь равна 4.

[Прототип задания](#)