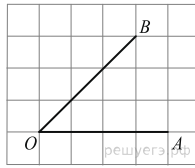


Варианты заданий

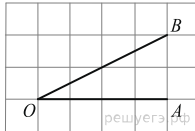
1.

На клетчатой бумаге с размером клетки 1×1 изображён угол. Найдите тангенс этого угла.



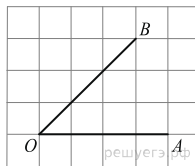
2.

На клетчатой бумаге с размером клетки 1×1 изображён угол. Найдите тангенс этого угла.



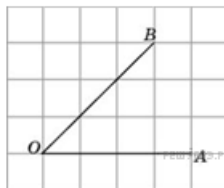
3.

На клетчатой бумаге с размером клетки 1×1 изображён угол. Найдите тангенс этого угла.



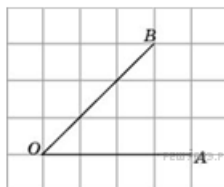
4.

Найдите синус угла AOB . В ответе укажите значение синуса, умноженное на $2\sqrt{2}$.



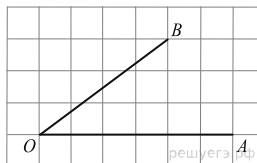
5.

Найдите косинус угла AOB . В ответе укажите значение косинуса, умноженное на $2\sqrt{2}$.



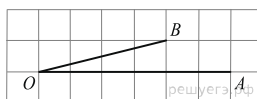
6.

На клетчатой бумаге с размером клетки 1×1 изображён угол. Найдите тангенс этого угла.



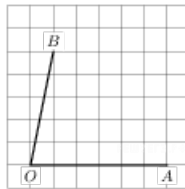
7.

На клетчатой бумаге с размером клетки 1×1 изображён угол. Найдите тангенс этого угла.



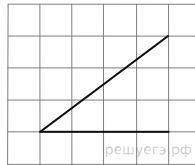
8.

На клетчатой бумаге с размером клетки 1×1 изображён угол. Найдите тангенс этого угла.



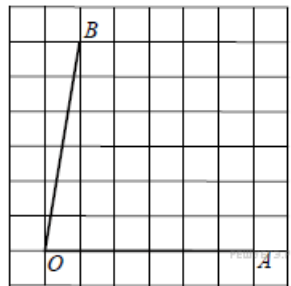
9.

На клетчатой бумаге с размером клетки 1×1 изображён угол. Найдите синус этого угла.



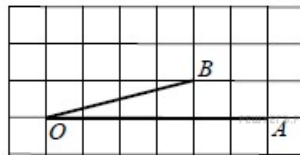
10.

На клетчатой бумаге с размером клетки 1×1 изображён угол. Найдите тангенс этого угла.



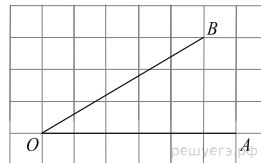
11.

На клетчатой бумаге с размером клетки 1×1 изображён угол. Найдите тангенс этого угла.



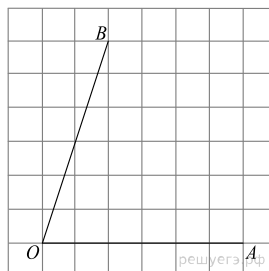
12.

На клетчатой бумаге с размером клетки 1×1 изображён угол. Найдите тангенс этого угла.



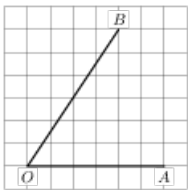
13.

На клетчатой бумаге с размером клетки 1×1 изображён угол. Найдите тангенс этого угла.



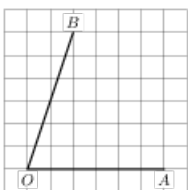
14.

На клетчатой бумаге с размером клетки 1×1 изображён угол. Найдите тангенс этого угла.



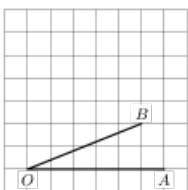
15.

На клетчатой бумаге с размером клетки 1×1 изображён угол. Найдите тангенс этого угла.



16.

На клетчатой бумаге с размером клетки 1×1 изображён угол. Найдите тангенс этого угла.



17.

На клетчатой бумаге с размером клетки 1×1 изображён угол. Найдите тангенс этого угла.

