


Задания**Задание 3 № 249321**

Найдите площадь четырехугольника, изображенного на клетчатой бумаге с размером клетки $1\text{ см} \times 1\text{ см}$ (см. рис.). Ответ дайте в квадратных сантиметрах.



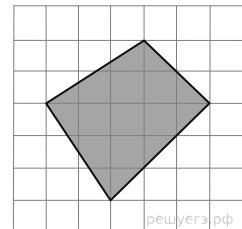
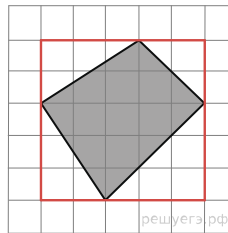
Решение.

Это задание ещё не решено, приводим решение прототипа.

Найдите площадь четырехугольника, изображенного на клетчатой бумаге с размером клетки $1\text{ см} \times 1\text{ см}$ (см. рис.). Ответ дайте в квадратных сантиметрах.

Площадь четырехугольника равна разности площади прямоугольника и четырех прямоугольных треугольников, гипотенузы которых являются сторонами исходного четырехугольника. Поэтому

$$S = 5 \cdot 5 - \frac{1}{2} \cdot 2 \cdot 3 - \frac{1}{2} \cdot 3 \cdot 3 - \frac{1}{2} \cdot 2 \cdot 2 - \frac{1}{2} \cdot 2 \cdot 3 = 12,5 \text{ см}^2.$$



Ответ: 12,5.

[Прототип задания](#)