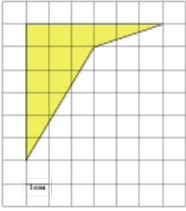


**Задания****Задание 3 № 258467**

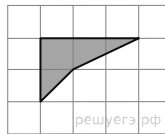
Найдите площадь четырехугольника, изображенного на клетчатой бумаге с размером клетки 1 см × 1 см (см. рис.). Ответ дайте в квадратных сантиметрах.



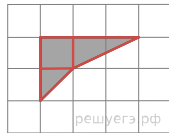
**Решение.**

Это задание ещё не решено, приводим решение прототипа.

Найдите площадь четырехугольника, изображенного на клетчатой бумаге с размером клетки 1 см × 1 см (см. рис.). Ответ дайте в квадратных сантиметрах.



Площадь четырёхугольника равна сумме площадей маленького прямоугольника и двух прямоугольных треугольников, гипотенузы которых являются сторонами исходного четырёхугольника. Поэтому



$$S = \frac{1}{2} \cdot 2 \cdot 1 + \frac{1}{2} \cdot 1 \cdot 1 + 1 \cdot 1 = 2,5 \text{ см}^2.$$

[Прототип задания](#)