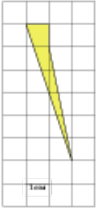


Задания**Задание 3 № 259299**

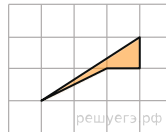
Найдите площадь четырехугольника, изображенного на клетчатой бумаге с размером клетки 1 см × 1 см (см. рис.). Ответ дайте в квадратных сантиметрах.



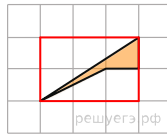
Решение.

Это задание ещё не решено, приводим решение прототипа.

Найдите площадь четырехугольника, изображенного на клетчатой бумаге с размером клетки 1 см × 1 см (см. рис.). Ответ дайте в квадратных сантиметрах.



Площадь четырехугольника равна разности площади большого прямоугольного треугольника, маленького прямоугольного треугольника, гипотенуза которого является стороной исходного четырехугольника и площади маленького квадрата. Поэтому



$$S = \frac{1}{2} \cdot 3 \cdot 2 - \frac{1}{2} \cdot 1 \cdot 2 - 1 \cdot 1 = 1 \text{ см}^2.$$

[Прототип задания](#)