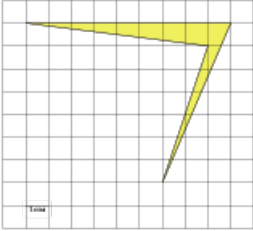


Задания**Задание 3 № 262031**

Найдите площадь четырехугольника, изображенного на клетчатой бумаге с размером клетки $1\text{ см} \times 1\text{ см}$ (см. рис.). Ответ дайте в квадратных сантиметрах.



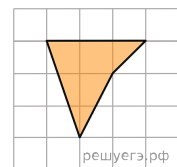
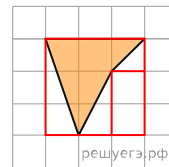
Решение.

Это задание ещё не решено, приводим решение прототипа.

Найдите площадь четырехугольника, изображенного на клетчатой бумаге с размером клетки $1\text{ см} \times 1\text{ см}$ (см. рис.). Ответ дайте в квадратных сантиметрах.

Площадь четырёхугольника равна площади квадрата, уменьшенной на площади маленького прямоугольника и трёх прямоугольных треугольников, гипотенузы которых являются сторонами исходного четырёхугольника. Поэтому

$$S = 3 \cdot 3 - \frac{1}{2} \cdot 1 \cdot 3 - \frac{1}{2} \cdot 1 \cdot 2 - \frac{1}{2} \cdot 1 \cdot 1 - 1 \cdot 2 = 4 \text{ см}^2.$$



Примечание.

Данный четырёхугольник можно разбить на прямоугольный треугольник, с катетами 1 и 3, прямоугольную трапецию с основаниями 3 и 1 и прямоугольный треугольник с катетами 1 и 1. Поэтому его площадь равна 4.

[Прототип задания](#)