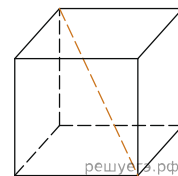
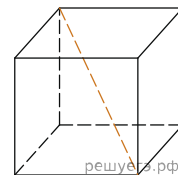


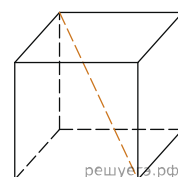
1. Диагональ куба равна $\sqrt{12}$. Найдите его объем.



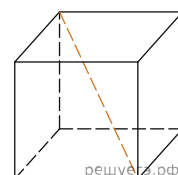
2. Диагональ куба равна $\sqrt{300}$. Найдите его объем.



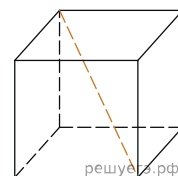
3. Диагональ куба равна $\sqrt{588}$. Найдите его объем.



4. Диагональ куба равна $\sqrt{243}$. Найдите его объем.



5. Диагональ куба равна $\sqrt{48}$. Найдите объём куба.



6. Диагональ куба равна $\sqrt{12}$. Найдите его объем.

7. Диагональ куба равна $\sqrt{108}$. Найдите его объем.

8. Диагональ куба равна $\sqrt{27}$. Найдите его объем.

9. Диагональ куба равна $\sqrt{675}$. Найдите его объем.