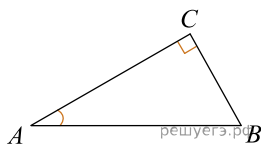
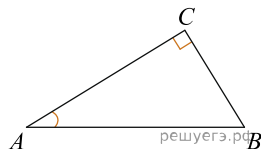


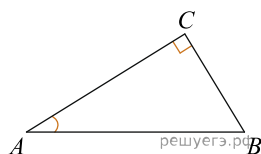
1. В треугольнике ABC угол C равен 90° , $AC = 4,8$, $\sin A = \frac{7}{25}$. Найдите AB .



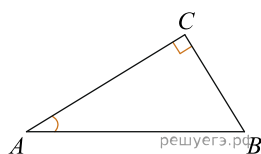
2. В треугольнике ABC угол C равен 90° , $AC = 2$, $\sin A = \frac{\sqrt{17}}{17}$. Найдите BC .



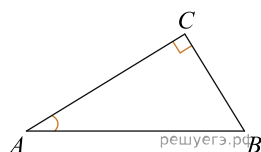
3. В треугольнике ABC угол C равен 90° , $AC = 4$, $\cos A = 0,5$. Найдите AB .



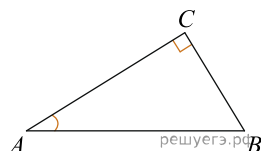
4. В треугольнике ABC угол C равен 90° , $\operatorname{tg} A = \frac{33}{4\sqrt{33}}$, $AC = 4$. Найдите AB .



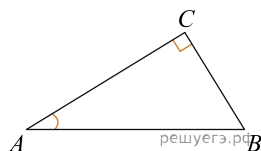
5. В треугольнике ABC угол C равен 90° , $AC = 8$, $\operatorname{tg} A = 0,5$. Найдите BC .



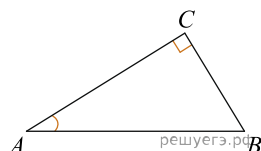
6. В треугольнике ABC угол C равен 90° , $BC = 4$, $\sin A = 0,5$. Найдите AB .



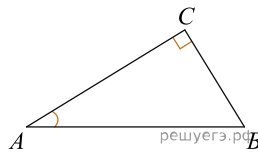
7. В треугольнике ABC угол C равен 90° , $\cos A = \frac{\sqrt{17}}{17}$, $BC = 2$. Найдите AC .



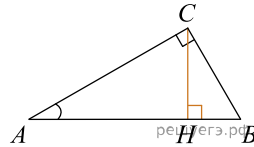
8. В треугольнике ABC угол C равен 90° , $\operatorname{tg} A = 0,5$, $BC = 4$. Найдите AC .



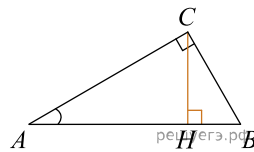
9. В треугольнике ABC угол C равен 90° , $AC = 24$, $BC = 7$. Найдите $\sin A$.



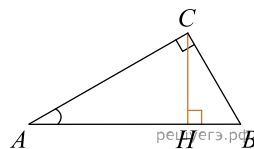
10. В треугольнике ABC угол C равен 90° , CH — высота, $AB = 13$, $\operatorname{tg} A = \frac{1}{5}$. Найдите AH .



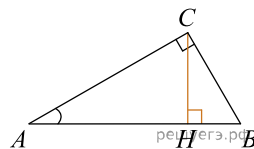
11. В треугольнике ABC угол C равен 90° , CH — высота, $AB = 13$, $\operatorname{tg} A = 5$. Найдите BH .



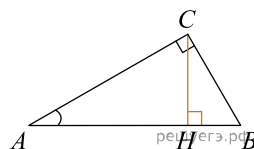
12. В треугольнике ABC угол C равен 90° , $AB = 13$, $\operatorname{tg} A = \frac{1}{5}$. Найдите высоту CH .



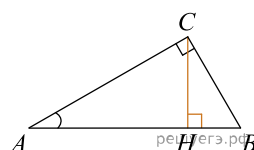
13. В треугольнике ABC угол C равен 90° , CH — высота, $BC = 3$, $\sin A = \frac{1}{6}$. Найдите AH .



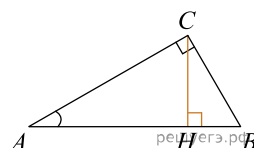
14. В треугольнике ABC угол C равен 90° , CH — высота, $BC = 8$, $\sin A = 0,5$. Найдите BH .



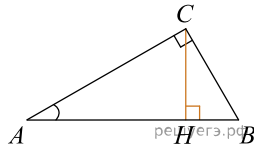
15. В треугольнике ABC угол C равен 90° , $BC = 5$, $\sin A = \frac{7}{25}$. Найдите высоту CH .



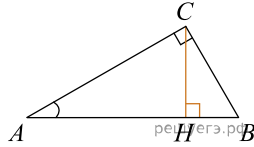
16. В треугольнике ABC угол C равен 90° , CH — высота, $BC = 3$, $\cos A = \frac{\sqrt{35}}{6}$. Найдите AH .



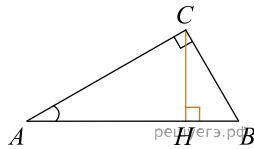
17. В треугольнике ABC угол C равен 90° , CH — высота, $BC = 5$, $\cos A = \frac{7}{25}$. Найдите BH .



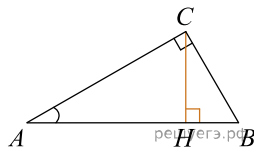
18. В треугольнике ABC угол C равен 90° , $BC = 8$, $\cos A = 0,5$. Найдите CH .



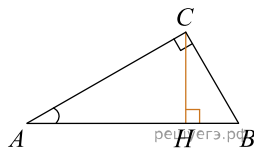
19. В треугольнике ABC угол C равен 90° , CH — высота, $AC = 3$, $\cos A = \frac{1}{6}$. Найдите BH .



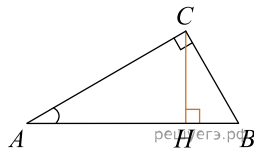
20. В треугольнике ABC угол C равен 90° , CH — высота, $BC = 8$, $BH = 4$. Найдите $\sin A$.



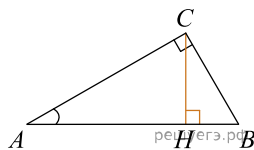
21. В треугольнике ABC угол C равен 90° , CH — высота, $BC = 25$, $BH = 20$. Найдите $\cos A$.



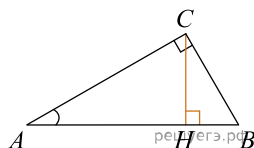
22. В треугольнике ABC угол C равен 90° , CH — высота, $BC = 4\sqrt{5}$, $BH = 4$. Найдите $\operatorname{tg} A$.



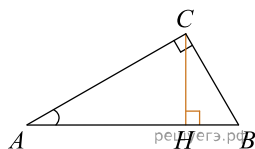
23. В треугольнике ABC угол C равен 90° , высота CH равна 20, $BC = 25$. Найдите $\sin A$.



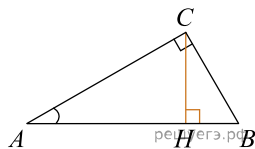
24. В треугольнике ABC угол C равен 90° , высота CH равна 4, $BC = 8$. Найдите $\cos A$.



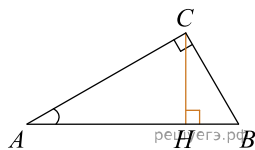
25. В треугольнике ABC угол C равен 90° , высота CH равна 4, $BC = \sqrt{17}$. Найдите $\operatorname{tg} A$.



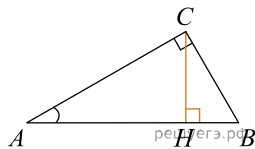
26. В треугольнике ABC угол C равен 90° , высота CH равна 24, $BH = 7$. Найдите $\sin A$.



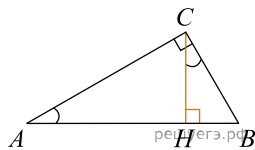
27. В треугольнике ABC угол C равен 90° , высота CH равна 7, $BH = 24$. Найдите $\cos A$.



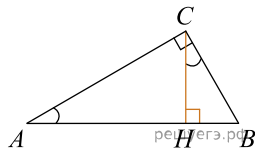
28. В треугольнике ABC угол C равен 90° , высота CH равна 8, $BH = 4$. Найдите $\operatorname{tg} A$.



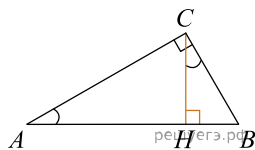
29. В треугольнике ABC угол C равен 90° , CH — высота, $AH = 27$, $\operatorname{tg} A = \frac{2}{3}$. Найдите BH .



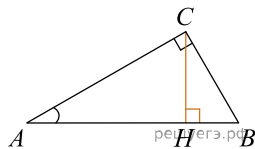
30. В треугольнике ABC угол C равен 90° , CH — высота, $BH = 12$, $\operatorname{tg} A = \frac{2}{3}$. Найдите AH .



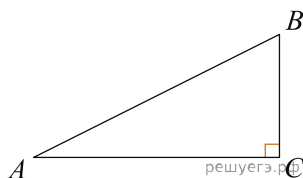
31. В треугольнике ABC угол C равен 90° , CH — высота, $BH = 12$, $\sin A = \frac{2}{3}$. Найдите AB .



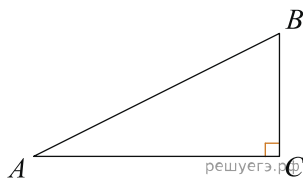
32. В треугольнике ABC угол C равен 90° , CH — высота, $AH = 12$, $\cos A = \frac{2}{3}$. Найдите AB .



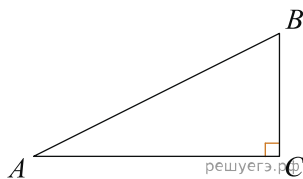
33. Найдите площадь прямоугольного треугольника, если его катет и гипотенуза равны соответственно 6 и 10.



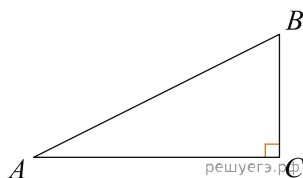
34. Площадь прямоугольного треугольника равна 24. Один из его катетов на 2 больше другого. Найдите меньший катет.



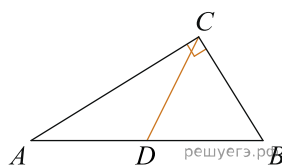
35. Один острый угол прямоугольного треугольника на 32° больше другого. Найдите больший острый угол. Ответ дайте в градусах.



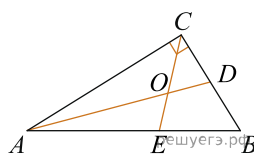
36. Один острый угол прямоугольного треугольника в 4 раза больше другого. Найдите больший острый угол. Ответ дайте в градусах.



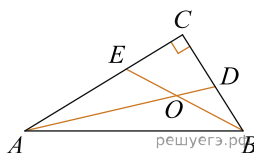
37. В треугольнике ABC угол ACB равен 90° , угол B равен 58° , CD — медиана. Найдите угол ACD . Ответ дайте в градусах.



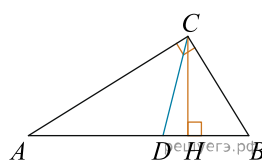
38. Острый угол прямоугольного треугольника равен 32° . Найдите острый угол, образованный биссектрисами этого и прямого углов треугольника. Ответ дайте в градусах.



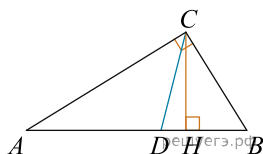
39. Найдите острый угол между биссектрисами острых углов прямоугольного треугольника. Ответ дайте в градусах.



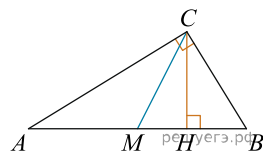
40. Острый угол B прямоугольного треугольника ABC равен 61° . Найдите угол между высотой CH и биссектрисой CD , проведёнными из вершины прямого угла. Ответ дайте в градусах.



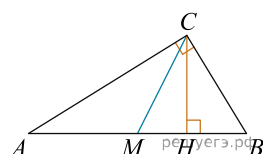
41. В прямоугольном треугольнике угол между высотой и биссектрисой, проведенными из вершины прямого угла, равен 21° . Найдите меньший угол данного треугольника. Ответ дайте в градусах.



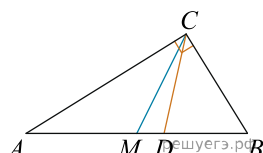
42. Острый угол B прямоугольного треугольника равен 66° . Найдите угол между высотой CH и медианой CM , проведенными из вершины прямого угла. Ответ дайте в градусах.



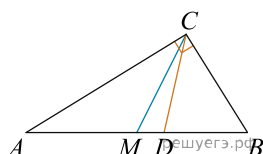
43. В прямоугольном треугольнике угол между высотой и медианой, проведенными из вершины прямого угла, равен 40° . Найдите больший из острых углов этого треугольника. Ответ дайте в градусах.



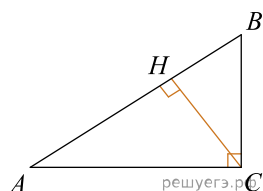
44. Острые углы прямоугольного треугольника равны 24° и 66° . Найдите угол между биссектрисой и медианой, проведенными из вершины прямого угла. Ответ дайте в градусах.



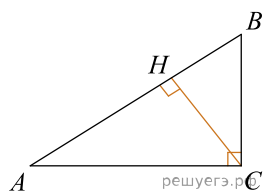
45. Угол между биссектрисой и медианой прямоугольного треугольника, проведенными из вершины прямого угла, равен 14° . Найдите меньший угол этого треугольника. Ответ дайте в градусах.



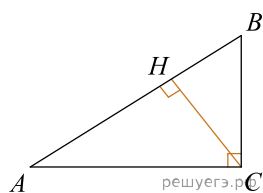
46. В треугольнике ABC угол C равен 90° , угол A равен 30° , $AB = 2\sqrt{3}$. Найдите высоту CH .



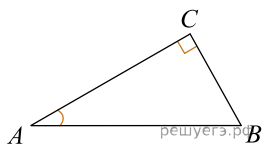
47. В треугольнике ABC угол C равен 90° , CH — высота, угол A равен 30° , $AB = 2$. Найдите AH .



48. В треугольнике ABC угол C равен 90° , CH — высота, угол A равен 30° , $AB = 4$. Найдите BH .



49. В треугольнике ABC угол C равен 90° , $AB = 45$, $\sin A = 0,6$. Найдите BC .



50. В треугольнике ABC угол C равен 90° , $AB = 10$, $AC = \sqrt{91}$. Найдите $\sin A$.

