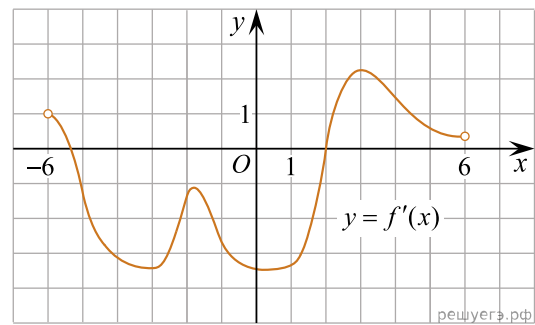
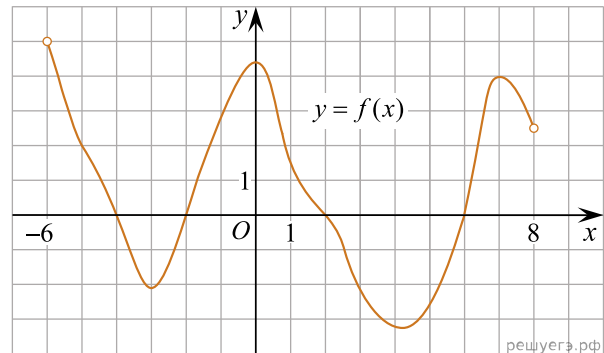


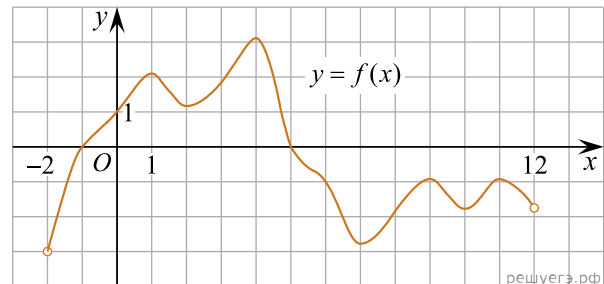
1. На рисунке изображен график $y = f'(x)$ — производной функции $y = f(x)$, определенной на интервале $(-6; 6)$. Найдите промежутки возрастания функции $f(x)$. В ответе укажите сумму целых точек, входящих в эти промежутки.



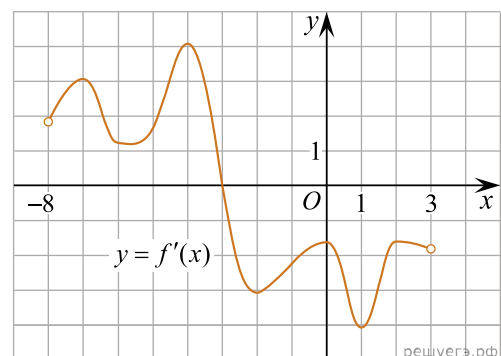
2. На рисунке изображен график функции $y = f(x)$, определенной на интервале $(-6; 8)$. Определите количество целых точек, в которых производная функции положительна.



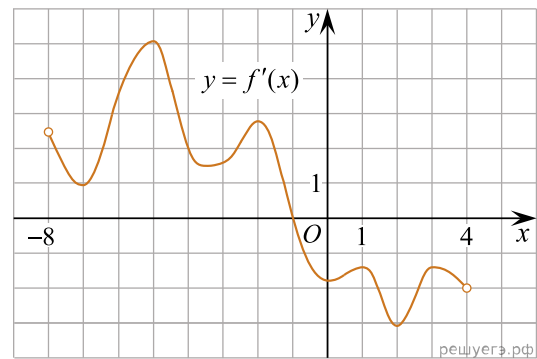
3. На рисунке изображен график функции $y = f(x)$, определенной на интервале $(-2; 12)$. Найдите сумму точек экстремума функции $f(x)$.



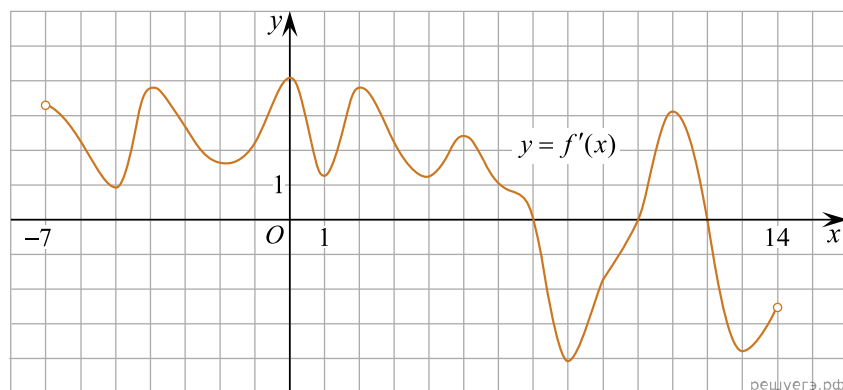
4. На рисунке изображён график $y = f'(x)$ — производной функции $f(x)$, определенной на интервале $(-8; 3)$. В какой точке отрезка $[-3; 2]$ функция $f(x)$ принимает наибольшее значение?



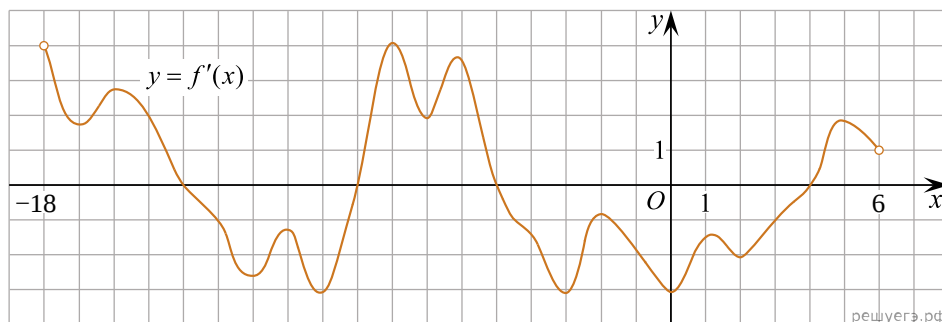
5. На рисунке изображен график производной функции $f(x)$, определенной на интервале $(-8; 4)$. В какой точке отрезка $[-7; -3]$ $f(x)$ принимает наименьшее значение?



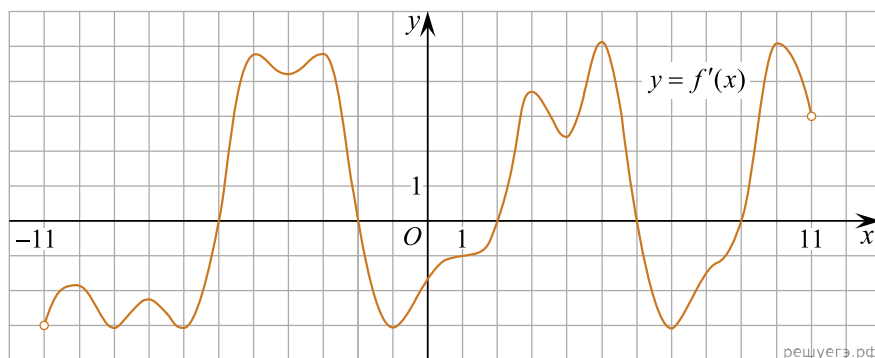
6. На рисунке изображен график производной функции $f(x)$, определенной на интервале $(-7; 14)$. Найдите количество точек максимума функции $f(x)$ на отрезке $[-6; 9]$.



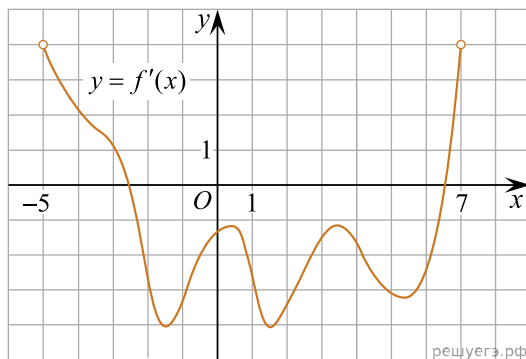
7. На рисунке изображен график производной функции $f(x)$, определенной на интервале $(-18; 6)$. Найдите количество точек минимума функции $f(x)$ на отрезке $[-13; 1]$.



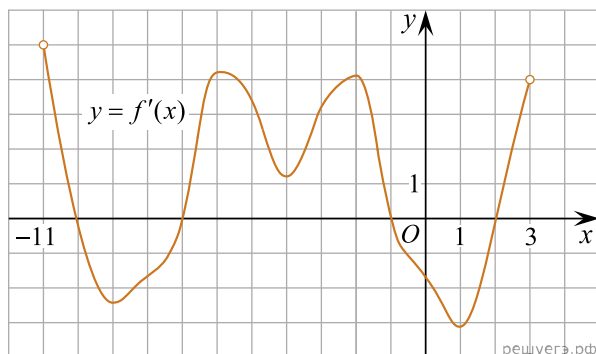
8. На рисунке изображен график производной функции $f(x)$, определенной на интервале $(-11; 11)$. Найдите количество точек экстремума функции $f(x)$ на отрезке $[-10; 10]$.



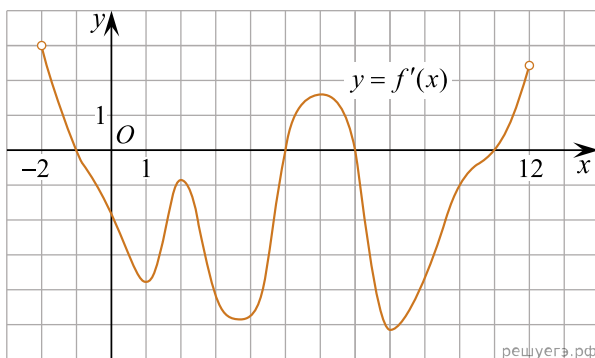
9. На рисунке изображен график производной функции $f(x)$, определенной на интервале $(-5; 7)$. Найдите промежутки убывания функции $f(x)$. В ответе укажите сумму целых точек, входящих в эти промежутки.



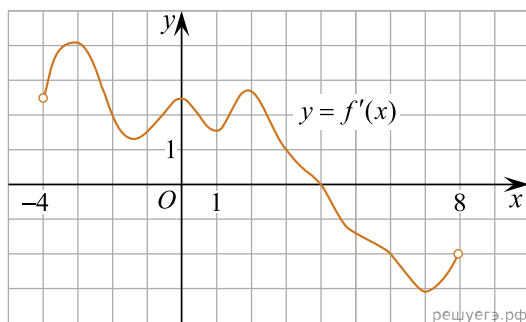
10. На рисунке изображен график производной функции $f(x)$, определенной на интервале $(-11; 3)$. Найдите промежутки возрастания функции $f(x)$. В ответе укажите длину наибольшего из них.



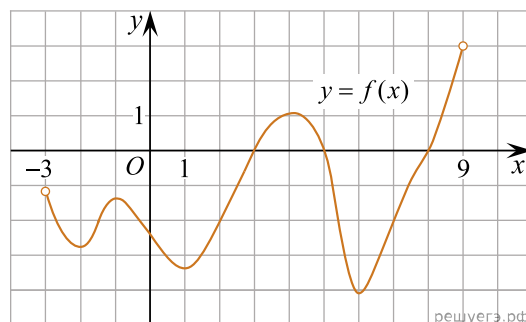
11. На рисунке изображен график производной функции $f(x)$, определенной на интервале $(-2; 12)$. Найдите промежутки убывания функции $f(x)$. В ответе укажите длину наибольшего из них.



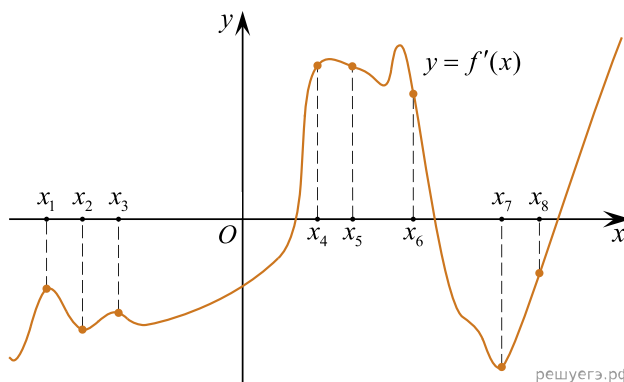
12. На рисунке изображен график производной функции $f(x)$, определенной на интервале $(-4; 8)$. Найдите точку экстремума функции $f(x)$ на отрезке $[-2; 6]$.



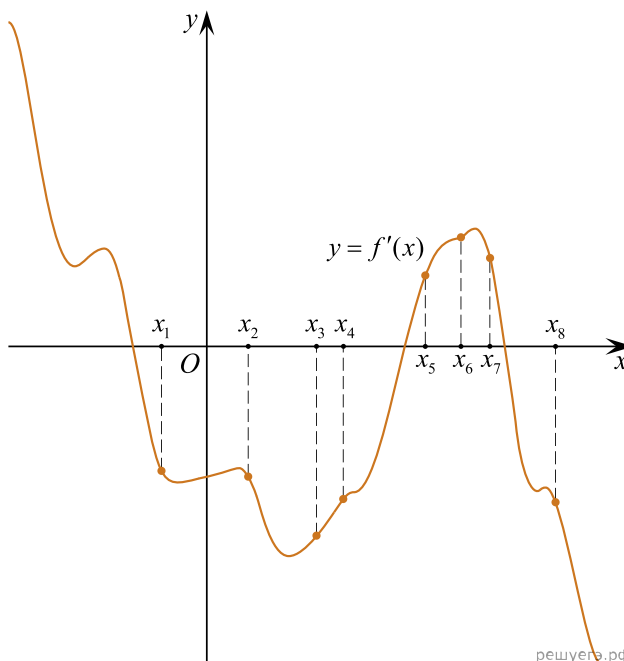
13. На рисунке изображен график функции $y = f(x)$, определенной на интервале $(-3; 9)$. Найдите количество точек, в которых производная функции $f(x)$ равна 0.



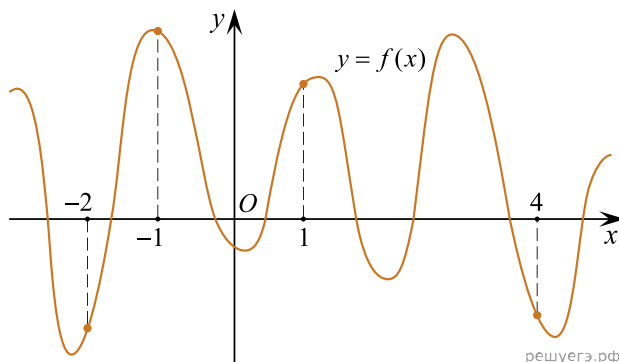
14. На рисунке изображён график $y = f'(x)$ — производной функции $f(x)$. На оси абсцисс отмечены восемь точек: $x_1, x_2, x_3, \dots, x_8$. Сколько из этих точек лежит на промежутках возрастания функции $f(x)$?



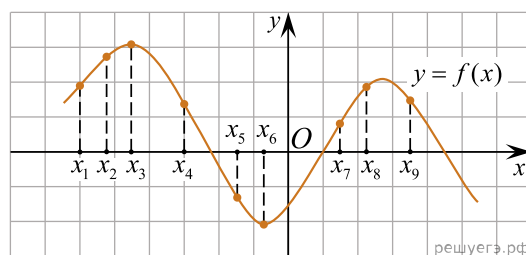
15. На рисунке изображён график $y = f'(x)$ — производной функции $f(x)$ — и восемь точек на оси абсцисс: $x_1, x_2, x_3, \dots, x_8$. В скольких из этих точек функция $f(x)$ убывает?



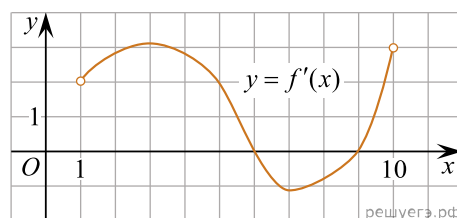
16. На рисунке изображен график функции $y = f(x)$ и отмечены точки $-2, -1, 1, 4$. В какой из этих точек значение производной наименьшее? В ответе укажите эту точку.



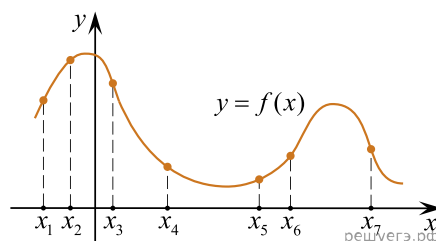
17. На рисунке изображён график дифференцируемой функции $y = f(x)$. На оси абсцисс отмечены девять точек: $x_1, x_2, x_3, \dots, x_9$. Среди этих точек найдите все точки, в которых производная функции $f(x)$ отрицательна. В ответе укажите количество найденных точек.



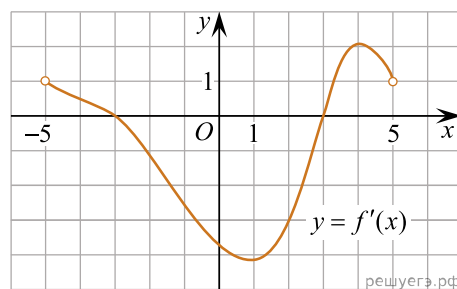
18. На рисунке изображён график функции $y = f'(x)$ — производной функции $f(x)$, определённой на интервале $(1; 10)$. Найдите точку минимума функции $f(x)$.



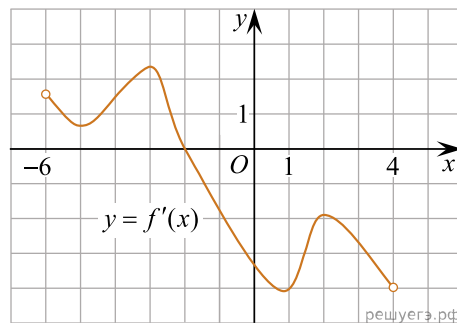
19. На рисунке изображён график функции $y = f(x)$ и отмечены семь точек на оси абсцисс: $x_1, x_2, x_3, x_4, x_5, x_6, x_7$. В скольких из этих точек производная функции $f(x)$ отрицательна?



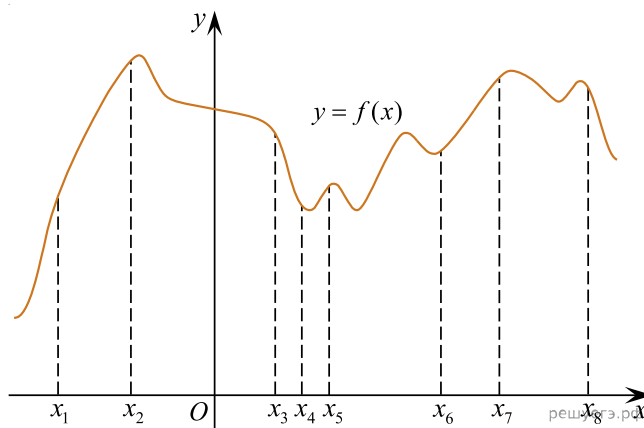
20. Функция $y = f(x)$ определена и непрерывна на отрезке $[-5; 5]$. На рисунке изображён график её производной. Найдите точку x_0 , в которой функция принимает наименьшее значение, если $f(-5) \geq f(5)$.



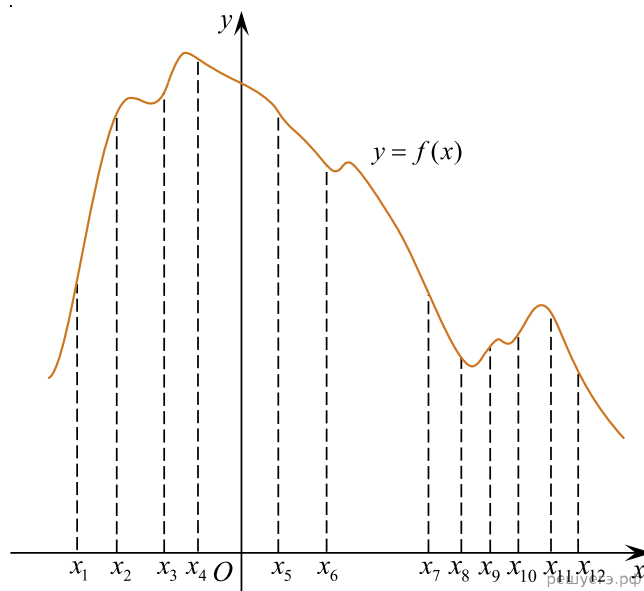
21. Функция $y = f(x)$ определена на промежутке $(-6; 4)$. На рисунке изображен график ее производной. Найдите абсциссу точки, в которой функция $y = f(x)$ принимает наибольшее значение.



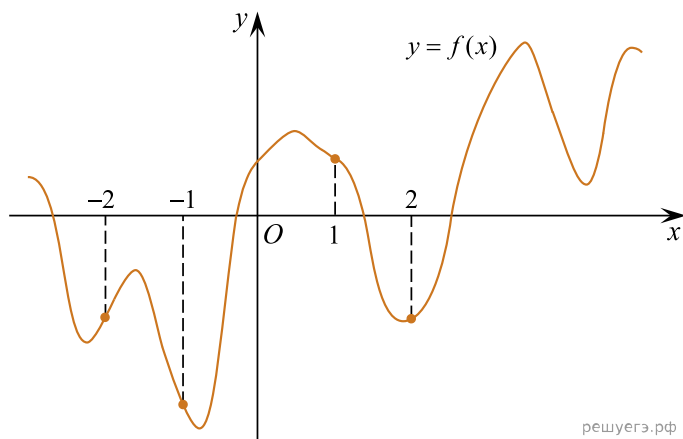
22. На рисунке изображён график функции $y = f(x)$ и восемь точек на оси абсцисс: $x_1, x_2, x_3, \dots, x_8$. В скольких из этих точек производная функции $f(x)$ положительна?



23. На рисунке изображён график функции $y = f(x)$ и двенадцать точек на оси абсцисс: $x_1, x_2, x_3, \dots, x_{12}$. В скольких из этих точек производная функции $f(x)$ отрицательна?

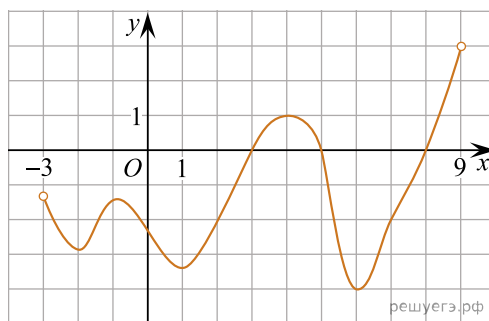


24. На рисунке изображен график функции $y = f(x)$ и отмечены точки $-2, -1, 1, 2$. В какой из этих точек значение производной наибольшее? В ответе укажите эту точку.



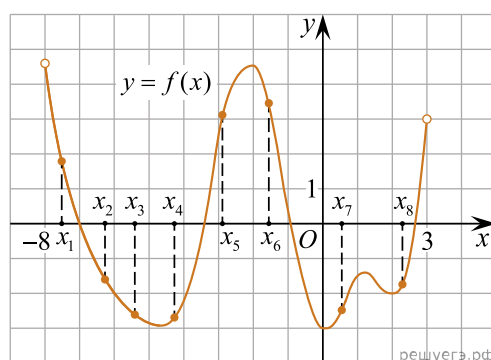
решуегэ.рф

25. На рисунке изображён график функции $y = f(x)$, определённой на интервале $(-3; 9)$. Найдите количество решений уравнения $f'(x) = 0$ на отрезке $[0; 8]$.



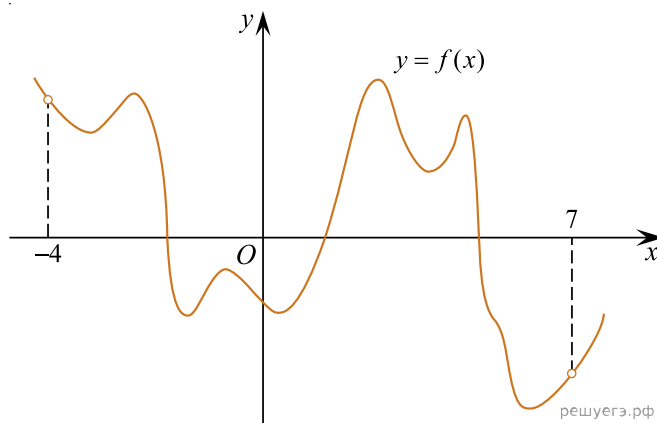
решуегэ.рф

26. На рисунке изображён график функции $y = f(x)$, определённой на интервале $(-8; 3)$. Сколько из отмеченных точек $x_1, x_2, x_3, x_4, x_5, x_6, x_7, x_8$ принадлежат промежуткам убывания функции?



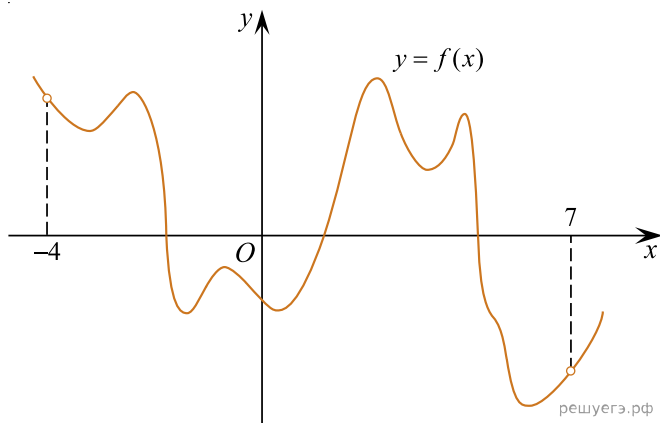
решуегэ.рф

27. На рисунке изображён график функции $y = f(x)$. Найдите количество точек максимума функции $f(x)$, принадлежащих интервалу $(-4; 7)$.

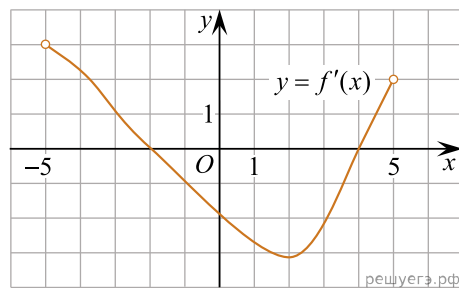


решуегэ.рф

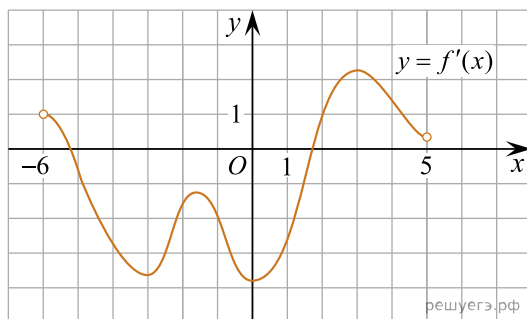
28. На рисунке изображён график функции $y = f(x)$. Найдите количество точек минимума функции $f(x)$, принадлежащих интервалу $(-4; 7)$.



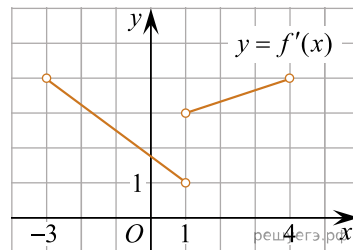
29. На рисунке изображён график функции $y = f'(x)$ — производной функции $f(x)$, определенной на интервале $(-5; 5)$. Найдите точку минимума функции $f(x)$.



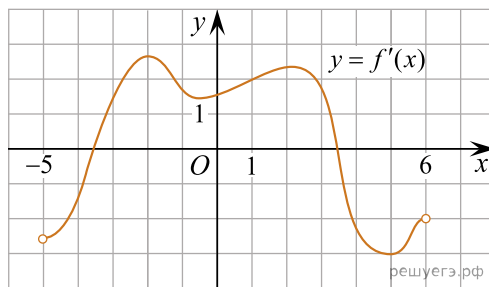
30. Функция $f(x)$ определена и непрерывна на отрезке $[-6; 5]$. На рисунке изображен график её производной. Найдите промежутки возрастания функции $f(x)$. В ответе укажите сумму целых точек, входящих в эти промежутки.



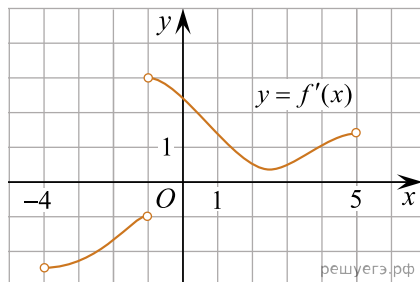
31. Функция $f(x)$ определена и непрерывна на интервале $(-3; 4)$. На рисунке изображен график её производной. Найдите промежутки возрастания функции $f(x)$. В ответе укажите сумму целых точек, входящих в эти промежутки.



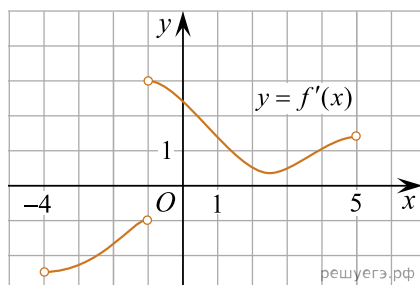
32. Функция $f(x)$ определена и непрерывна на отрезке $[-5; 6]$. На рисунке изображен график её производной. Найдите промежутки убывания функции $f(x)$. В ответе укажите сумму целых точек, входящих в эти промежутки.



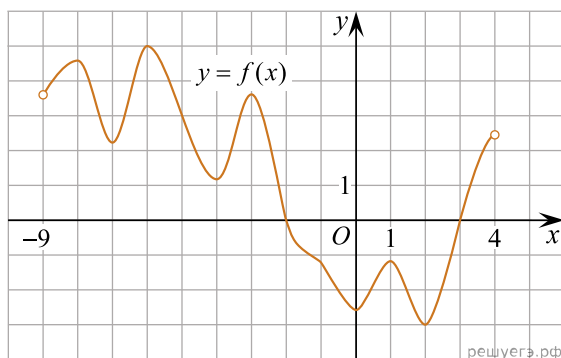
33. Функция $f(x)$ определена и непрерывна на полуинтервале $[-4; 5)$. На рисунке изображен график её производной. Найдите промежутки убывания функции $f(x)$. В ответе укажите сумму целых точек, входящих в эти промежутки.



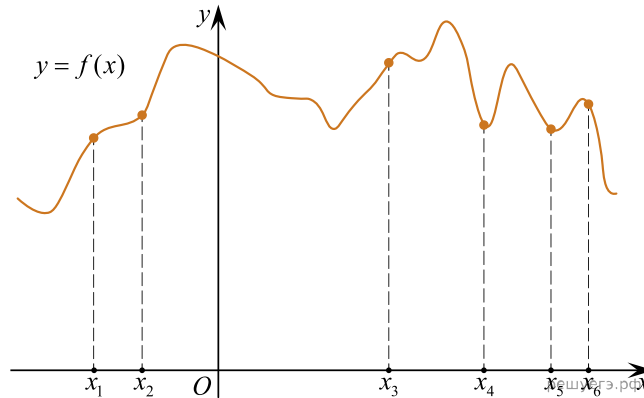
34. Функция $f(x)$ определена и непрерывна на полуинтервале $[-4; 5)$. На рисунке изображен график её производной. Найдите промежутки возрастания функции $f(x)$. В ответе укажите сумму целых точек, входящих в эти промежутки.



35. На рисунке изображён график функции $y = f(x)$, определённой на интервале $(-9; 4)$. Найдите промежутки убывания функции $f(x)$. В ответе укажите длину наибольшего из них.

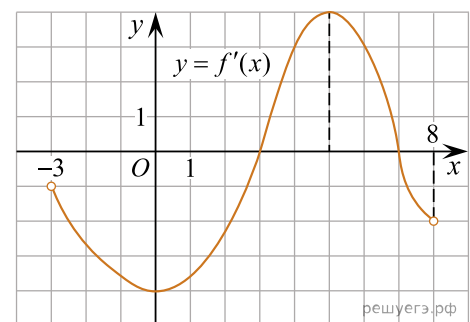


36. На рисунке изображён график функции $y = f(x)$. На оси абсцисс отмечено шесть точек: $x_1, x_2, x_3, x_4, x_5, x_6$.

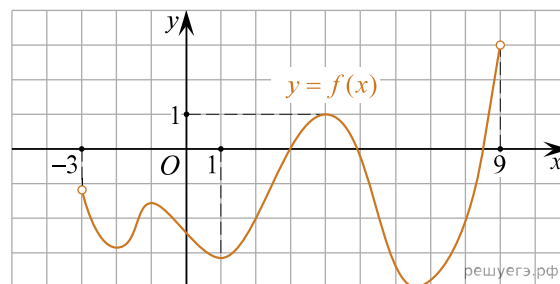


Сколько из отмеченных точек принадлежит промежуткам возрастания функции $f(x)$?

37. На рисунке изображён график функции $y = f'(x)$ — производной функции $f(x)$, определенной на интервале $(-3; 8)$. Найдите точку максимума функции $f(x)$.



38. На рисунке изображен график функции $f(x)$, определенной на интервале $(-3; 9)$. Найдите количество точек, в которых производная функции равна нулю на отрезке $[0; 8]$.



39. На рисунке изображен график функции $y = f(x)$, определенной на интервале $(-3; 11)$. Найдите количество решений уравнения $f'(x) = 0$ на отрезке $[4; 9]$.

