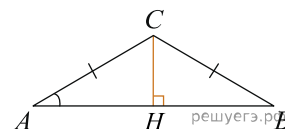
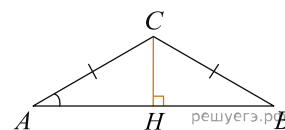


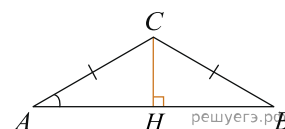
1. В треугольнике ABC $AC = BC = 5$, $\sin A = \frac{7}{25}$. Найдите AB .



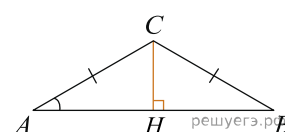
2. В треугольнике ABC $AC = BC$, $AB = 9,6$, $\sin A = \frac{7}{25}$. Найдите AC .



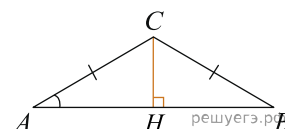
3. В треугольнике ABC $AC = BC = 8$, $\cos A = 0,5$. Найдите AB .



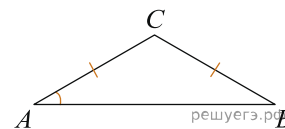
4. В треугольнике ABC $AC = BC$, $AB = 8$, $\cos A = 0,5$. Найдите AC .



5. В треугольнике ABC $AC = BC = 7$, $\operatorname{tg} A = \frac{33}{4\sqrt{33}}$. Найдите AB .



6. В треугольнике ABC $AC = BC$, $AB = 8$, $\operatorname{tg} A = \frac{33}{4\sqrt{33}}$. Найдите AC .

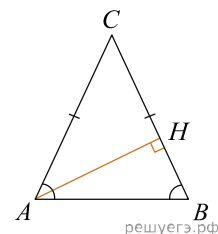


7. В треугольнике ABC $AC = BC$, $AB = 8$, $\sin BAC = 0,5$. Найдите высоту AH .

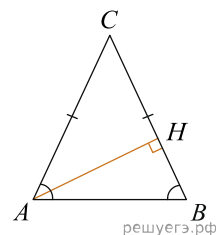
8. В треугольнике ABC $AC = BC$, AH — высота, $AB = 5$, $\sin BAC = \frac{7}{25}$. Найдите BH .

9. В треугольнике ABC $AC = BC$, $AB = 5$, $\cos \angle BAC = \frac{7}{25}$. Найдите высоту AH .

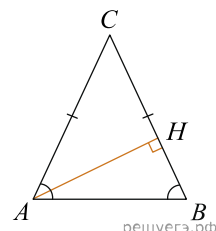
10. В треугольнике ABC $AC = BC$, AH — высота, $AB = 8$, $\cos BAC = 0,5$. Найдите BH .



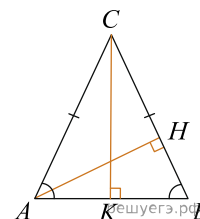
11. В треугольнике ABC $AC = BC$, $AB = 7$, $\operatorname{tg} BAC = \frac{4\sqrt{33}}{33}$. Найдите высоту AH .



12. В треугольнике ABC $AC = BC$, AH — высота, $AB = 7$, $\operatorname{tg} BAC = \frac{33}{4\sqrt{33}}$. Найдите BH .

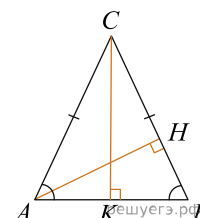


13. В треугольнике ABC $AC = BC = 4\sqrt{15}$, $\sin BAC = 0,25$. Найдите высоту AH .

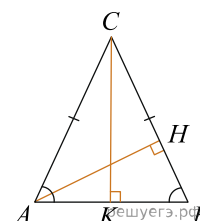


14. В треугольнике ABC $AC = BC = 27$, AH — высота, $\sin BAC = \frac{2}{3}$. Найдите BH .

15. В треугольнике ABC $AC = BC = 4\sqrt{15}$, $\cos BAC = 0,25$. Найдите высоту AH .



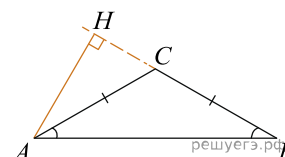
16. В треугольнике ABC $AC = BC = 27$, AH — высота, $\cos BAC = \frac{2}{3}$. Найдите BH .



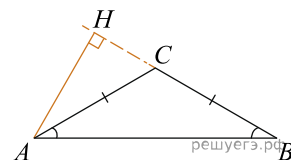
17. В треугольнике ABC $AC = BC$, высота AH равна 4, $AB = 8$. Найдите синус угла BAC .

18. В треугольнике ABC $AC = BC$, высота AH равна 20, $AB = 25$. Найдите $\cos BAC$.

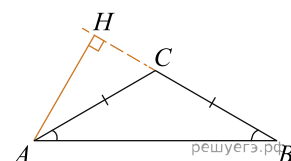
19. В тупоугольном треугольнике ABC $AC = BC = 8$, высота AH равна 4. Найдите $\sin ACB$.



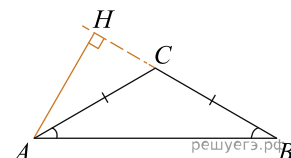
20. В тупоугольном треугольнике ABC $AC = BC = 25$, высота AH равна 20. Найдите $\cos ACB$.



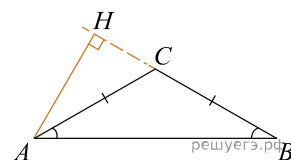
21. В тупоугольном треугольнике ABC $AC = BC = 4\sqrt{5}$, высота AH равна 4. Найдите $\operatorname{tg} ACB$.



22. В тупоугольном треугольнике ABC $AC = BC = 8$, AH — высота, $CH = 4$. Найдите $\cos ACB$.

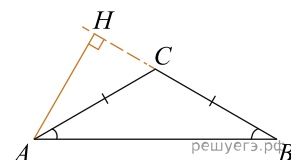


23. В тупоугольном треугольнике ABC $AC = BC = \sqrt{17}$, AH — высота, $CH = 4$. Найдите $\operatorname{tg} ACB$.

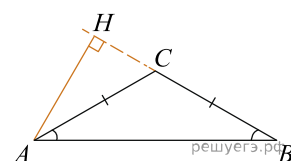


24. В тупоугольном треугольнике ABC $AC = BC$, высота AH равна 7, $CH = 24$. Найдите $\sin ACB$.

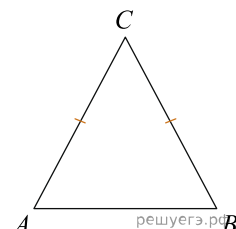
25. В тупоугольном треугольнике ABC $AC = BC$, высота AH равна 24, $CH = 7$. Найдите $\cos ACB$.



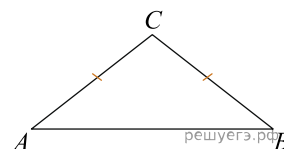
26. В тупоугольном треугольнике ABC $AC = BC$, высота AH равна 4, $CH = 8$. Найдите $\operatorname{tg} ACB$.



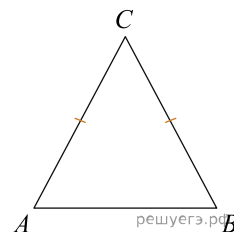
27. Угол при вершине, противолежащей основанию равнобедренного треугольника, равен 30° . Боковая сторона треугольника равна 10. Найдите площадь этого треугольника.



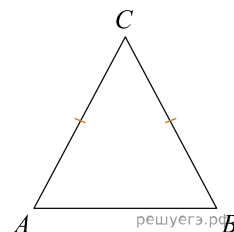
28. Угол при вершине, противолежащей основанию равнобедренного треугольника, равен 150° . Боковая сторона треугольника равна 20. Найдите площадь этого треугольника.



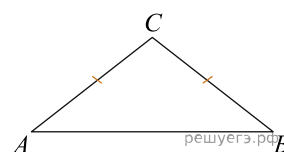
29. Боковая сторона равнобедренного треугольника равна 5, а основание равно 6. Найдите площадь этого треугольника.



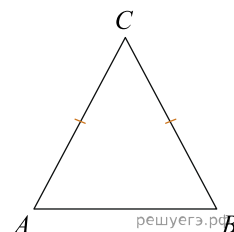
30. Угол при вершине, противолежащей основанию равнобедренного треугольника, равен 30° . Найдите боковую сторону треугольника, если его площадь равна 25.



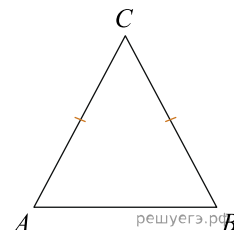
31. Угол при вершине, противолежащей основанию равнобедренного треугольника, равен 150° . Найдите боковую сторону треугольника, если его площадь равна 100.



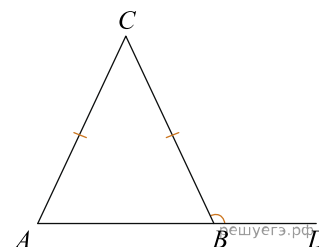
32. В треугольнике ABC угол A равен 38° , $AC = BC$. Найдите угол C . Ответ дайте в градусах.



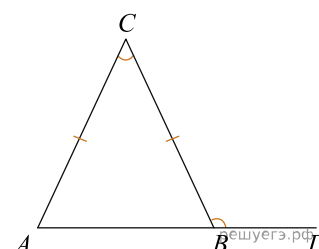
33. В треугольнике ABC угол C равен 118° , $AC = BC$. Найдите угол A . Ответ дайте в градусах.



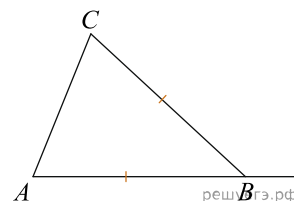
34. В треугольнике ABC $AC = BC$, угол C равен 52° . Найдите внешний угол CBD . Ответ дайте в градусах.



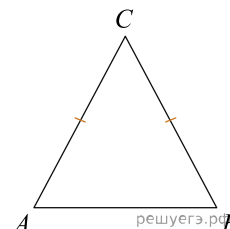
35. В треугольнике ABC $AC = BC$. Внешний угол при вершине B равен 122° . Найдите угол C . Ответ дайте в градусах.



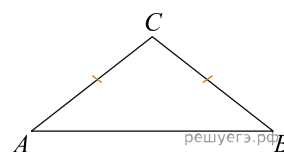
36. В треугольнике ABC $AB = BC$. Внешний угол при вершине B равен 138° . Найдите угол C . Ответ дайте в градусах.



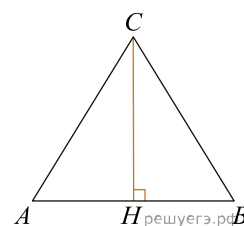
37. Большой угол равнобедренного треугольника равен 98° . Найдите меньший угол. Ответ дайте в градусах.



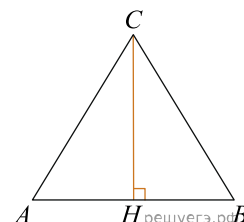
38. Один угол равнобедренного треугольника на 90° больше другого. Найдите меньший угол. Ответ дайте в градусах.



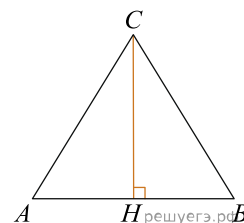
39. В треугольнике ABC $AB = BC = AC = 2\sqrt{3}$. Найдите высоту CH .



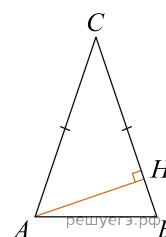
40. В равностороннем треугольнике ABC высота CH равна $2\sqrt{3}$. Найдите стороны этого треугольника.



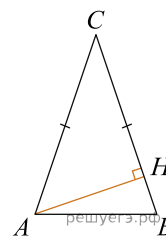
41. В треугольнике ABC $AC = BC$, $AB = 4$, высота CH равна $2\sqrt{3}$. Найдите угол C . Ответ дайте в градусах.



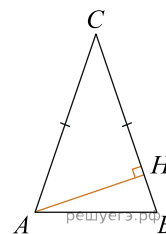
42. В треугольнике ABC $AC = BC = 4$, угол C равен 30° . Найдите высоту AH .



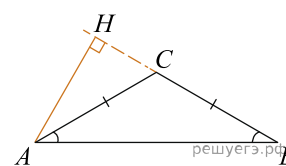
43. В остроугольном треугольнике ABC известно, что $AC = BC = 6$, высота AH равна 3. Найдите угол C . Ответ дайте в градусах.



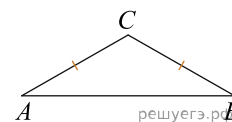
44. В треугольнике ABC $AC = BC$, высота AH равна 4, угол C равен 30° . Найдите AC .



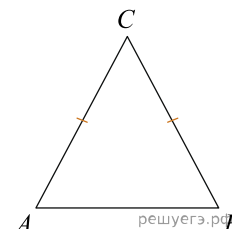
45. В треугольнике ABC $AC = BC = 2\sqrt{3}$, угол C равен 120° . Найдите высоту AH .



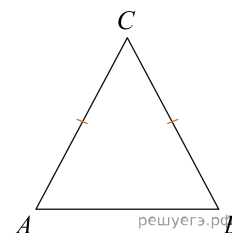
46. В треугольнике ABC $AC = BC$, угол C равен 120° , $AB = 2\sqrt{3}$. Найдите AC .



47. В треугольнике ABC $AC = BC$, угол C равен 120° , $AC = 2\sqrt{3}$. Найдите AB .



48. В треугольнике ABC известно, что $AC = BC = 21$, $\operatorname{tg} \angle A = 2\sqrt{2}$. Найдите длину стороны AB .



49. В равнобедренном треугольнике ABC с основанием AB внешний угол при вершине B равен 124° . Найдите величину угла A треугольника ABC . Ответ дайте в градусах.

